

Concursul școlar de geografie
Etapa județeană / Municipală București
13.03.2004
CLASA a XII-a

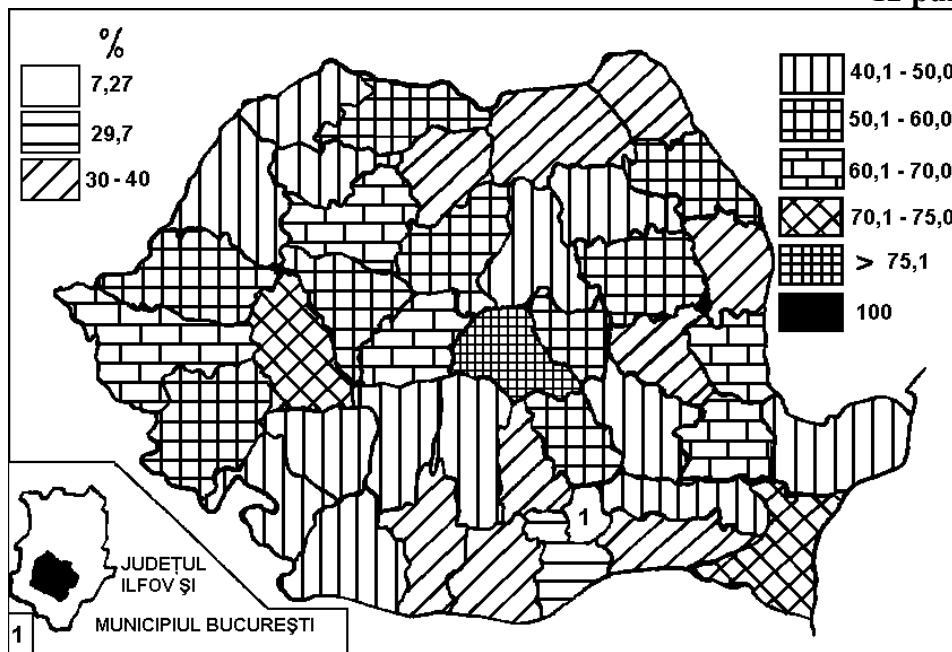
SUBIECTE:

1. Comparați hărțile de mai jos, 1 și 2, care prezintă nivelul de urbanizare pe județe, în anii 1992 și 2003.

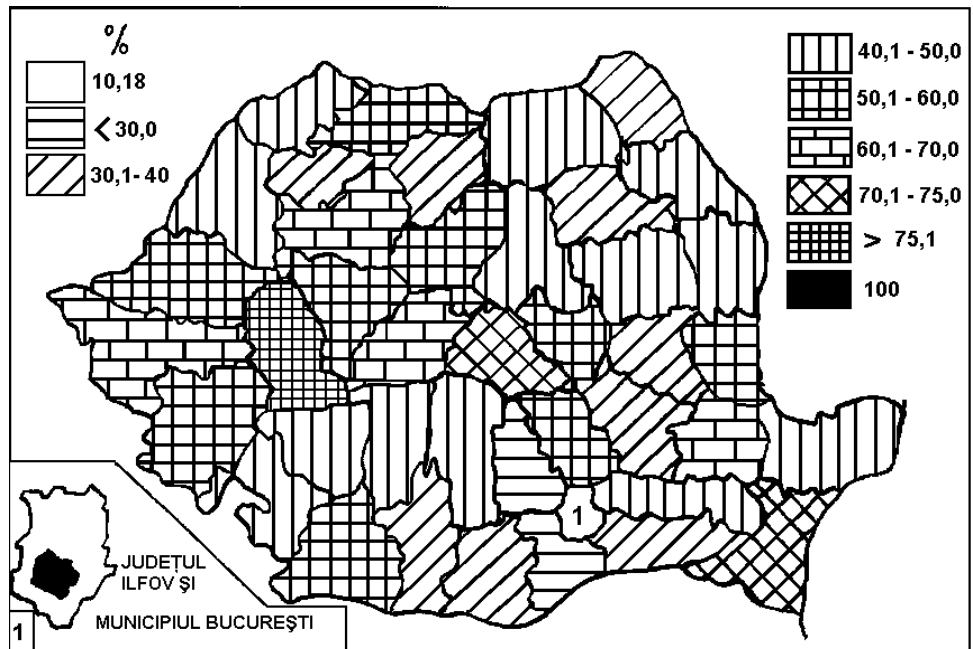
a. Precizați deosebirile privind distribuția valorilor nivelului de urbanizare în anii 1992 și 2003.

b. Explicați modificările survenite în evoluția nivelului de urbanizare în perioada 1992 – 2003.

12 puncte

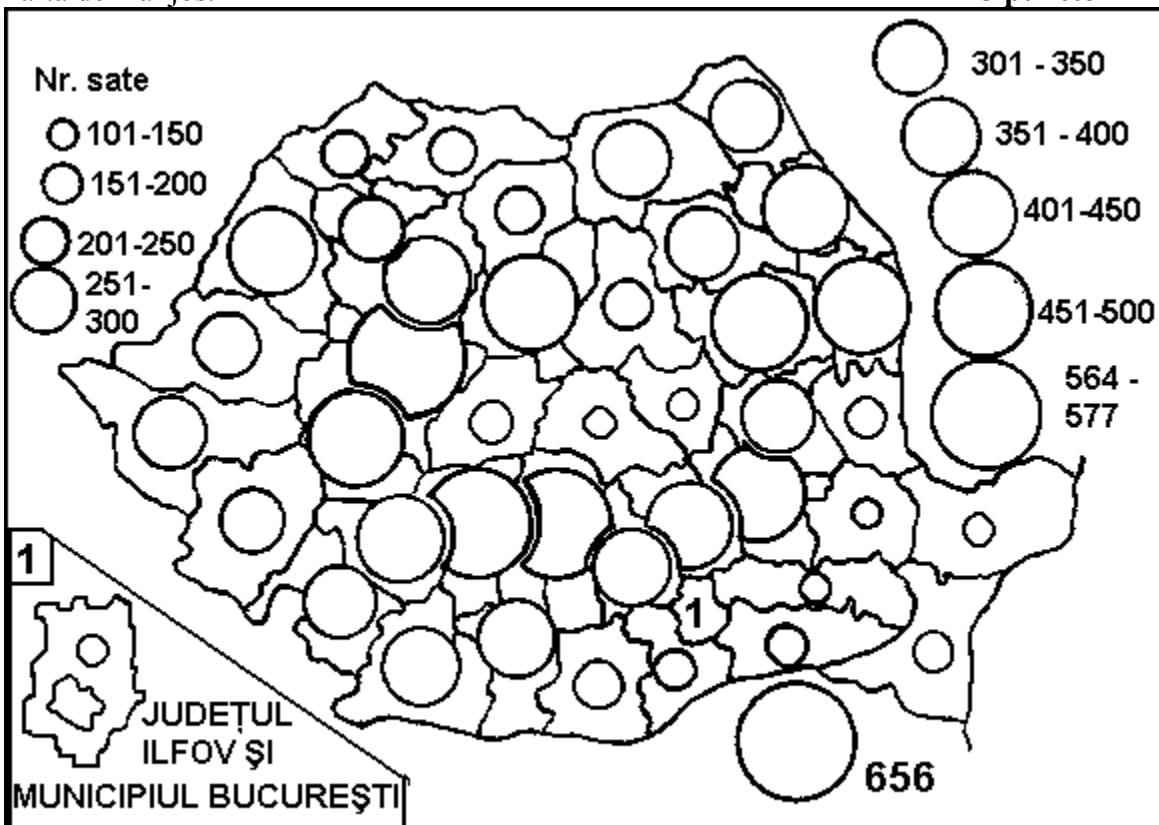


1. NIVELUL DE URBANIZARE ÎN 1992



2. NIVELUL DE URBANIZARE ÎN 2003

2. Explicați contrastele privind distribuția numerică a satelor pe județe, reprezentată pe harta de mai jos. **15 puncte**



3. DISTRIBUȚIA NUMERICĂ A SATELOR PE JUDEȚE (2002)

3. Explicați ponderea mai ridicată a versanților decât cea a suprafețelor interfluviale în mediul montan. Completați explicația cu un profil corespunzător răspunsului.

8 puncte

4. 2,2% din suprafața țării noastre nu intră în bazinul hidrografic al Dunării. Explicați acest aspect, precizând spațiul aflat în afara bazinului dunărean și râurile ale căror bazine nu intră în alcătuirea bazinului dunărean.

11 puncte

5. Explicați contrastele privind distribuția hazardelor geomorfologice în Carpați, Subcarpați și Câmpia Română.

15 puncte

6. Efectul de insulă generat de aglomerările urbane și indisciplina civică din țara noastră sunt cauze ale producerii viiturilor. Explicați modul în care aceste cauze contribuie la producerea viiturilor.

13 puncte

7. a. Precizați cărei componente geodemografice se datorează consecințele următoare:

- redistribuirea teritorială a populației;
- modificarea structurilor populației;
- prelungirea artificială și ineficientă a duratei zilei de lucru;
- creșterea ratei șomajului.

b. Explicați fiecare din aceste consecințe ca urmare a componentei geodemografice identificată corect.

16 puncte